

АЖЫЛ ТАЙМАШ



География мугалими
Базаркулова Саадат

Саламатсыңарбы , урматтуу
окуучулар!





Максаты

Окуучулардын билим билгичтик
кондумдорун
калыптандыруу, билим денгээлин
текшеруу, географияга болгон
кызыгуусун жогорлатуу



Барынарга ийгилик !




1-тип



1. География канчага болунот А.2 Б.3 В.4



География канчага болунот А.2




2. Биринчи глобусту
кайсыл географ тузгон
А. Х. Колуб
Б. М. Бехайм
В. И. Магеллан

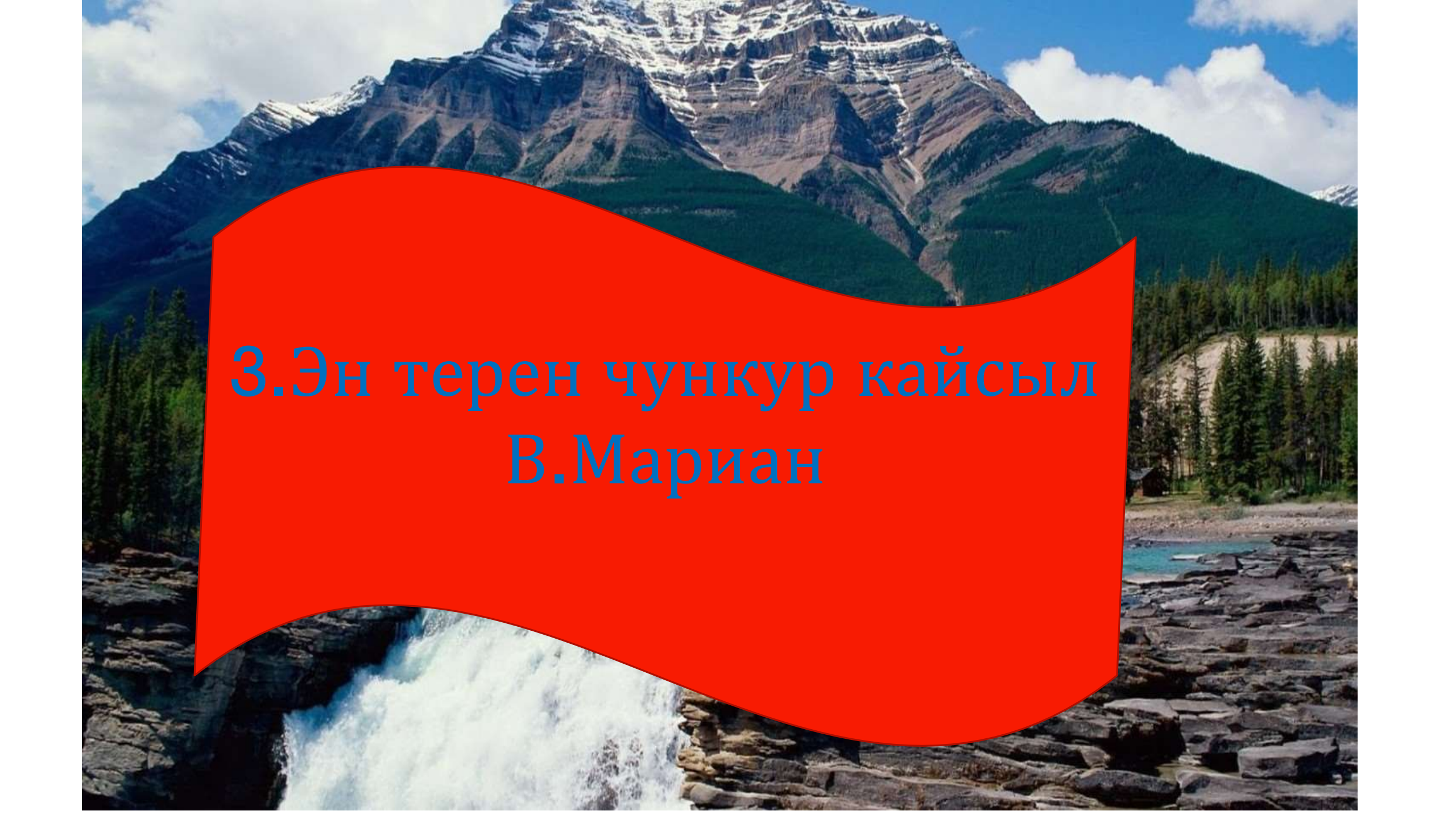


Биринчи глобусту
кайсыл географ тузгон

Б.М.Бехайм



3.Эн тeрeн чункур
кайсыл
А.Тонга
Б.Нансен
В.Мариан



3.Эн тeрeн чункур кайсыл
В.Мариан




4. Дуйнодогу эн узун
дарыя кайсыл


А. Нил

Б. Амазонка

В. Енисей



4. Дуйнодогу эн узун
дарыя кайсыл
А.Нил




5. Геосфералар канчага
болунот

А.3

Б.4

В.5




5. Геосфералар канчага болуноТ

Б.4




6.Тундук уюл менен туштук
уюлду бириктирген сызык
А.параллель
Б.Меридиан
В.Экватор



6.Тундук уюл менен туштук
уюлду бириктирген сызык

Б.Меридиан

- 
- **7. Жылуу**
 - **Муздак**
 - **Кислоталуу**
 - **Жазгы**
 - **Узак**
 - **Бат-баттан**
 - **Нөшөрлөгөн**

Жообу :Жамгыр





8. Карлуу

- Чандуу


- Кумдуу

- Талкалагыч

Жообу :куюн




9. Кайсыл мамлекеттердин желеги



А. Кытай
Турция
Озбекстан
Мексика
Б. Индия
Монголия
Германия
Турция
В. Индия
Япония
Эгипет, Канада

9. Кайсыл мамлекеттердин
желеги



Б.Индия
.Монголия
Германия
Турция

**10. Кыргызстан канчанчы
жылы эгемендуулукко ээ
болду эле**

**А.31.08.1991-ж
Б.25.09.1991-ж
В.20.08.1991-ж**



**10. Кыргызстан канчанчы
жылы эгемендуулукко ээ
болду эле**

А.31.08.1991-ж



11.Картада кайсыл материктер корунбой атат



11.Картада кайсыл материктер корунбой атат



12.Картадагы жылдыздар турган жерлерди атагыла

ИРА



УСЛОВНЫЕ ОБОЗНАЧЕНИЯ

НАСЕЛЕННЫЕ ТЕРРИТОРИИ	ГЛАВНЫЕ	ПУТИ СООБЩЕНИЯ
• 1000000 и более человек	— столица	— железная дорога
• 500000 - 1000000 человек	— крупный город	— автомобильная дорога
• 100000 - 500000 человек	— районный центр	— водный путь
• 50000 - 100000 человек	— районный центр	— воздушный путь
• 10000 - 50000 человек	— районный центр	— морской путь
• 1000 - 10000 человек	— районный центр	— морской путь

ГОСУДАРСТВА И ТЕРРИТОРИИ

СВЕТЛОЗЕЛЕНАЯ	ЗЕЛЕНАЯ	ЖЕЛТАЯ	ОРАНЖЕВАЯ	КРАСНАЯ	ФИОЛЕТОВАЯ	СЕРЫЙ
— Австралия	— Азия	— Африка	— Европа	— Северная Америка	— Южная Америка	— Антарктика

Символы на карте обозначают государства

Азия	Африка	Европа	Северная Америка	Южная Америка
— Афганистан	— Алжир	— Австрия	— Канада	— Аргентина
— Армения	— Ангола	— Азербайджан	— США	— Бразилия
— Бангладеш	— Ботсвана	— Беларусь	— Мексика	— Чили
— Бразилия	— Бурунди	— Бельгия	— Гватемала	— Колумбия
— Вьетнам	— Буркина-Фасо	— Венгрия	— Гондурас	— Эквадор
— Германия	— Камерун	— Греция	— Коста-Рика	— Перу
— Индия	— Чад	— Ирландия	— Куба	— Венесуэла
— Индонезия	— Коморы	— Италия	— Доминиканская Респ.	— Эквадор
— Япония	— Конго	— Франция	— Пуэрто-Рико	— Гайана
— Китай	— Кот-д'Ивуар	— Великобритания	— Сент-Винсент и Гренадины	— Суринам
— Корея	— Либерия	— Германия	— Сент-Люсия	— Тринидад и Тобаго
— Кувейт	— Ливия	— Дания	— Сент-Китс и Невис	— Уругвай
— Лаос	— Марокко	— Швеция	— Сент-Винсент и Гренадины	— Парагвай
— Малайзия	— Мали	— Норвегия	— Сент-Лусия	— Парагвай
— Мексика	— Мали	— Польша	— Сент-Лусия	— Парагвай
— Мьянма	— Мали	— Румыния	— Сент-Лусия	— Парагвай
— Непал	— Мали	— Словакия	— Сент-Лусия	— Парагвай
— Филиппины	— Мали	— Чехия	— Сент-Лусия	— Парагвай
— Сингапур	— Мали	— Венгрия	— Сент-Лусия	— Парагвай
— Таиланд	— Мали	— Польша	— Сент-Лусия	— Парагвай
— Тайвань	— Мали	— Румыния	— Сент-Лусия	— Парагвай
— Тибет	— Мали	— Словакия	— Сент-Лусия	— Парагвай
— Турция	— Мали	— Чехия	— Сент-Лусия	— Парагвай
— Узбекистан	— Мали	— Венгрия	— Сент-Лусия	— Парагвай
— Украина	— Мали	— Польша	— Сент-Лусия	— Парагвай
— США	— Мали	— Румыния	— Сент-Лусия	— Парагвай
— Южная Корея	— Мали	— Словакия	— Сент-Лусия	— Парагвай
— Южная Африка	— Мали	— Чехия	— Сент-Лусия	— Парагвай
— Австралия	— Мали	— Венгрия	— Сент-Лусия	— Парагвай

12.Картадагы жылдыздар турган жерлерди атагыла

Греландия

Россия

А.К.Ш.

Япония

Кытай

Бразилия

Мадагаскар

Австралия

УСЛОВНЫЕ ОБОЗНАЧЕНИЯ

НАСЕЛЕННЫЕ ТЕРРИТОРИИ	ГРАНИЦЫ	ВУЛКАНЫ
● 1000000 человек	— государственная	▲ действующий
● 500000 человек	— административная	▲ потухший
● 100000 человек	— международная	▲ действующий
● 50000 человек	— государственная	▲ потухший
● 10000 человек	— административная	▲ действующий
● 5000 человек	— международная	▲ потухший

ГОСУДАРСТВА И ТЕРРИТОРИИ

ГОСУДАРСТВО	ТЕРРИТОРИЯ
Австралия	Австралия
Бразилия	Бразилия
Канада	Канада
США	США
Россия	Россия
Япония	Япония
Китай	Китай
Индия	Индия
Южная Африка	Южная Африка
Южная Америка	Южная Америка
Северная Америка	Северная Америка
Европа	Европа
Азия	Азия
Африка	Африка
Океания	Океания
Антарктика	Антарктика

Пояснения:
1. Местонахождение действующих вулканов обозначено красными треугольниками, потухших — синими.
2. Местонахождение действующих вулканов обозначено красными треугольниками, потухших — синими.
3. Местонахождение действующих вулканов обозначено красными треугольниками, потухших — синими.



13. Көлөмдүү

- Тармал

- Канат сымал

- Катмарлуу

- Жамгырлуу

- Чагылгандуу



**Жообу
Булуттар**





14. Дуйно жузундогу эн бийик чоку кайсыл материкте жайгашкан

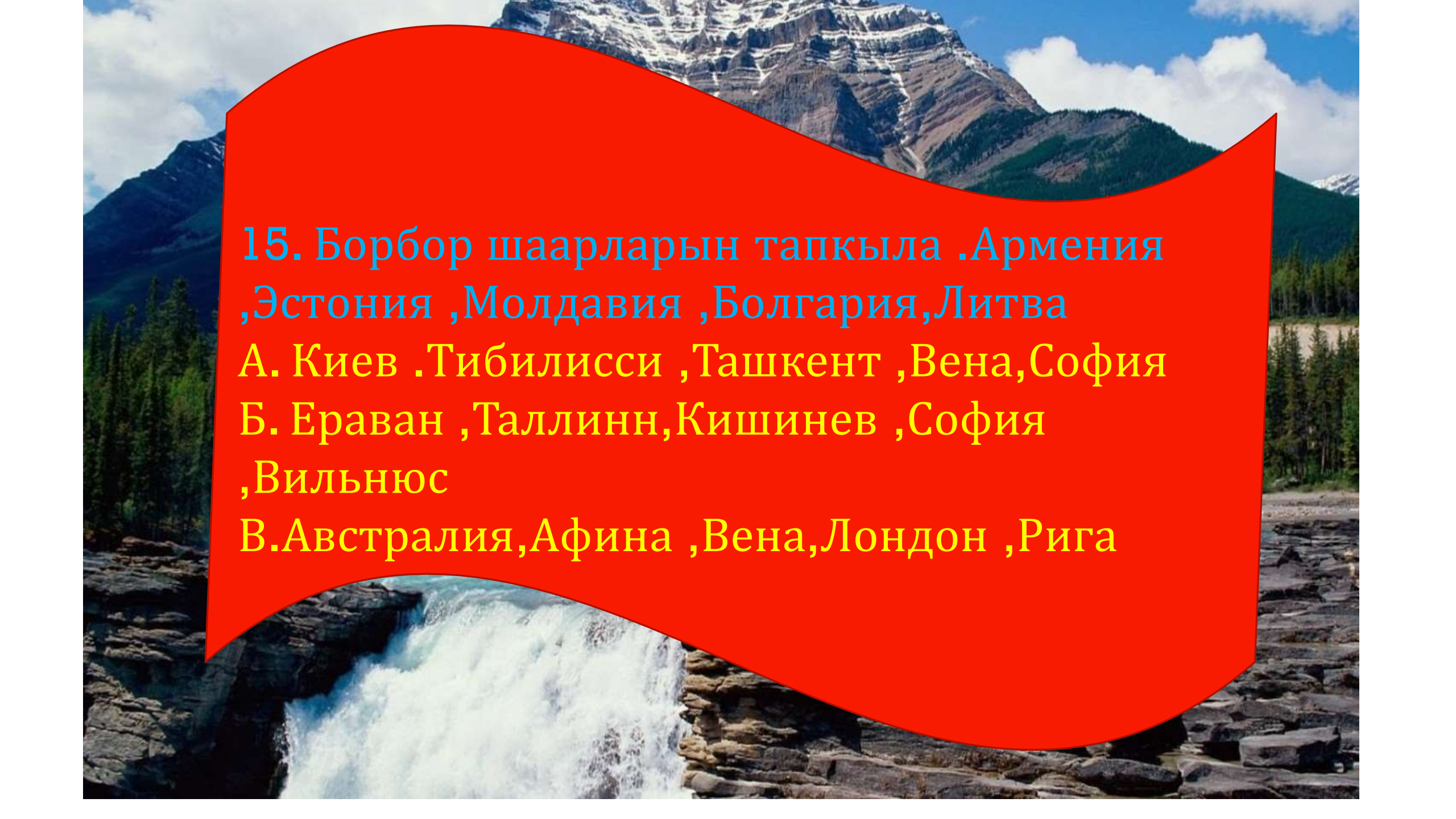
А.Евразия

Б.Африка

В.Австралия



14. Дуйно жузундогу эн бийик чоку кайсыл
материкте жайгашкан
А.Евразия



15. Борбор шаарларын тапкыла .Армения
,Эстония ,Молдавия ,Болгария,Литва
А. Киев .Тибилисси ,Ташкент ,Вена,София
Б. Ераван ,Таллинн,Кишинев ,София
,Вильнюс
В.Австралия,Афина ,Вена,Лондон ,Рига



15. Борбор шаарларын тапкыла .Армения
,Эстония ,Молдавия ,Болгария,Литва

Б. Ераван ,Таллинн,Кишинев ,София
,Вильнюс



Баарынарга ийгилик !!!